


3 — (5) 13

名前

【おさらい】

学校を3時50分に出ます。
 学校から家まで25分かかります。
 家に着くのは、何時何分ですか。
 〈下の図を見ながら考えましょう〉

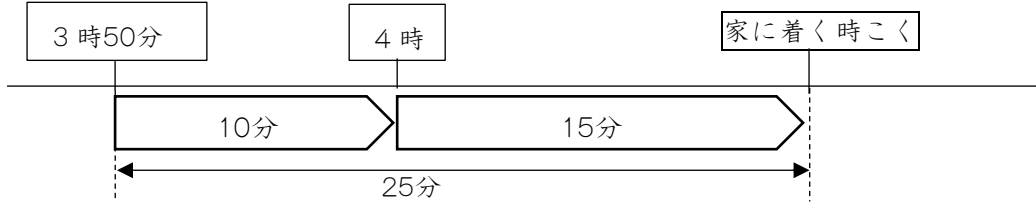
学校を出る時こく



3時50分から 分後は 4時です。そこから家までは、のこり 分

かかります。だから、家に着くのは 時 分になります。

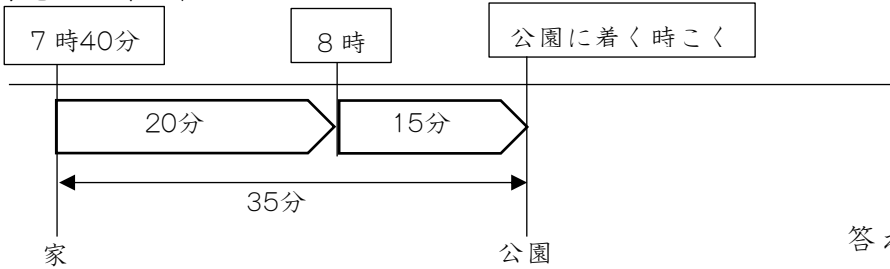
学校を出る時こく



【れんしゅう】

① 家を7時40分に出ます。家から公園までは35分かかります。公園に着くのは、何時何分ですか。

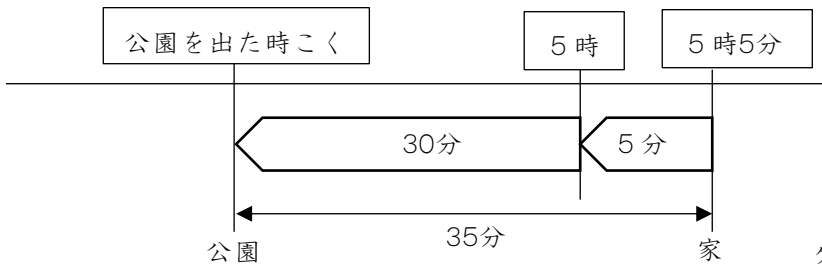
家を出る時こく



答え 時 分

② 公園を出て35分歩いて、家に着いたのは5時5分でした。公園を出たのは何時何分ですか。

家に着いた時こく



答え 時 分

【おさらい】 (じゅんに) 10 (分後), 15分, 4時15分

【れんしゅう】 ① 8(時)15(分) ② 4(時)30(分)