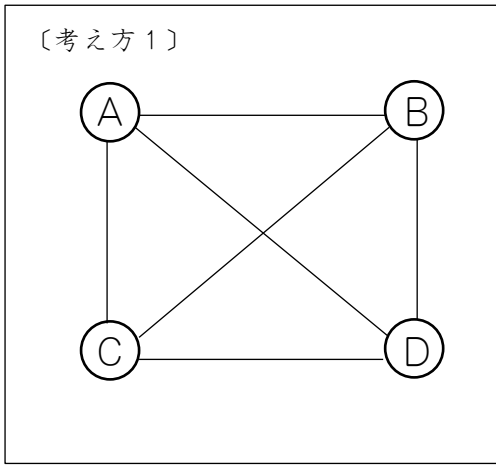


【復習】

① A組, B組, C組, D組の4チームで, どのチームも1回ずつあたるように試合をします。試合の組み合わせは全部で何とおりありますか。



図や表にかいて考えよう。



〔考え方2〕

	A	B	C	D
A		○	○	○
B			○	○
C				○
D				



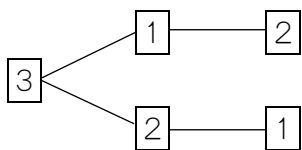
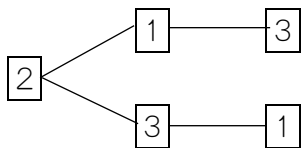
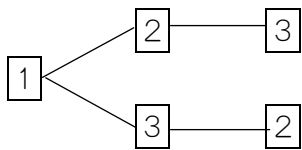
このほかにも図や表がかけるね。

©岡山県「ももっち」

答え

② 1, 2, 3のカードを並べてできる3けたの整数は, 全部で何個できますか。

百の位 十の位 一の位



樹形図をかいて考えよう。

©岡山県「ももっち」

答え