

さんすう たしかめテスト1-①

名まえ ()

1 つぎの けいさんを しましよう。

① $5+3=$

8

② $2+8=$

10

③ $4+0=$

4

④ $0+9=$

9

⑤ $10+6=$

16

⑥ $16+2=$

18

⑦ $9+4=$

13

⑧ $4+8=$

12

⑨ $60+2=$

62

⑩ $3+90=$

93

⑪ $70+10=$

80

⑫ $10+90=$

100

⑬ $72+5=$

77

⑭ $44+3=$

47

⑮ $26+20=$

46

⑯ $30+66=$

96

さんすう たしかめテスト 1-②

名まえ ()

2 つぎの けいさんを しましょう。

① $7-2=$

5

② $10-6=$

4

③ $8-8=$

0

④ $4-0=$

4

⑤ $13-3=$

10

⑥ $17-3=$

14

⑦ $13-4=$

9

⑧ $16-9=$

7

⑨ $75-5=$

70

⑩ $33-3=$

30

⑪ $70-40=$

30

⑫ $100-20=$

80

⑬ $39-5=$

34

⑭ $88-6=$

82

⑮ $46-20=$

26

⑯ $97-70=$

27

さんすう たしかめテスト1-③

名まえ ()

3 つぎの けいさんを しましょう。

① $3+2+4=$

9

② $4+6+2=$

12

③ $9-1-3=$

5

④ $13-3-6=$

4

⑤ $9-7+3=$

5

⑥ $16-6+4=$

14

⑦ $5+2-3=$

4

⑧ $15+4-8=$

11

4 に あてはまる かずを かきましよう。

① 10が 9こと 1が 7で

97

② 十のくろいが3, 一のくろいが8のかずは

38

③ 10が10で

100

④

108

109

110

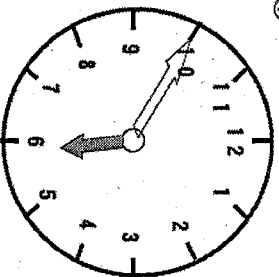
111

112

さんすう たしかめテスト1-④

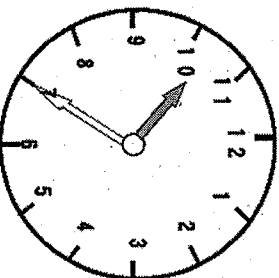
名まえ ()

5 なんじ なんふんですか。




5じ 50ふん

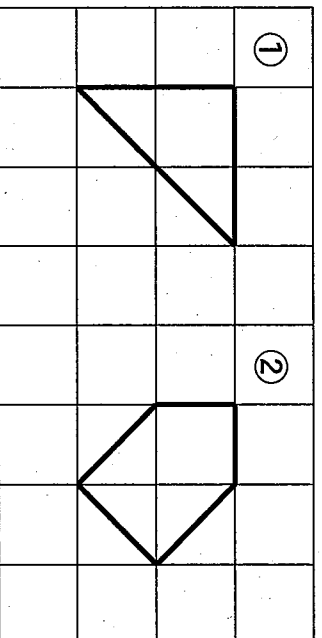
②



10じ 35ふん

6

(1)  を なんまい
つかうとできますか。




① 4
まい

② 5
まい


(2) ①と②は どちらが ひろいですか。

②

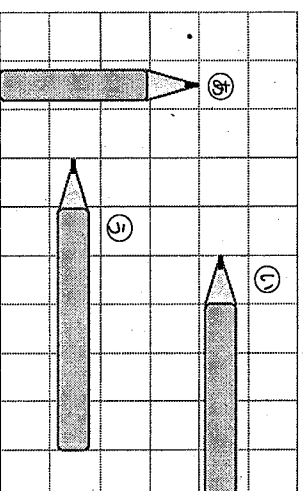
(3) いちばん ながい えんぴつは
どれですか。



いちばん みじかい
どれですか。



えんぴつは



算数 たしかめテスト2-①
名前 ()

1 つぎの計算をしましょう。

① $90 + 50 = 140$ ② $400 + 700 = 1100$

③ $110 - 60 = 50$ ④ $130 - 50 = 80$

⑤ $800 - 200 = 600$ ⑥ $1000 - 700 = 300$

2 つぎの計算をひっ算でしましょう。

① $83 + 46$

$$\begin{array}{r} 83 \\ + 46 \\ \hline 129 \end{array}$$

② $76 + 58$

$$\begin{array}{r} 76 \\ + 58 \\ \hline 134 \end{array}$$

③ $8 + 93$

$$\begin{array}{r} 8 \\ + 93 \\ \hline 101 \end{array}$$

3 つぎの計算をひっ算でしましょう。

① $129 - 53$

$$\begin{array}{r} 129 \\ - 53 \\ \hline 76 \end{array}$$

② $125 - 49$

$$\begin{array}{r} 125 \\ - 49 \\ \hline 76 \end{array}$$

③ $102 - 65$

$$\begin{array}{r} 102 \\ - 65 \\ \hline 37 \end{array}$$

算数 たしかめテスト2-②

名前 ()

4 (1) つぎの計算をしましょう。

① $5 \times 7 = 35$

② $6 \times 4 = 24$

③ $7 \times 8 = 56$

④ $8 \times 6 = 48$

⑤ $3 \times 7 = 21$

⑥ $7 \times 9 = 63$

⑦ $4 \times 7 = 28$

⑧ $6 \times 7 = 42$

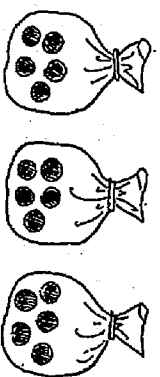
⑨ $9 \times 5 = 45$

⑩ $9 \times 3 = 27$

(2) 3つのふくらに、あめが5こずつ入っています。

あめはぜんぶで何こありますか。

かけ算でもとめましょう。



しき

$$5 \times 3 = 15$$

答え

15こ

5

にあてはまる数を書きましょう。

① 二千三十六は

と書きます。

② 1000を4こ、100を3こ、1を9こあわせた数は です。

③ 100を46こあつめた数は です。

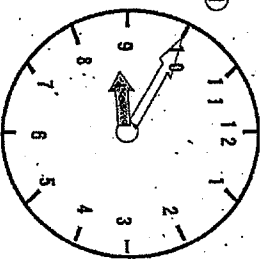
④ 2300は100を こあつめた数です。

⑤ 1000を10こあつめた数は、 です。

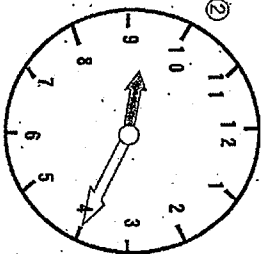
6

①から②まで時間がたちました。何分たちましたか。

①



②



分

午前 8時50分

午前 9時20分

算数 たしかめテスト2-③

名前 ()

7

(1) () にあてはまる数を書きましょう。

① $3\text{ cm} = (30)\text{ mm}$

② $25\text{ mm} = (2)\text{ cm} (5)\text{ mm}$

③ $4\text{ cm } 8\text{ mm} = (48)\text{ mm}$

④ $320\text{ cm} = (3)\text{ m} (20)\text{ cm}$

⑤ 1 m のものさしで $\frac{7}{10}$ 分の長さは (17) m です。

(2) 計算をしましょう。


① $5\text{ cm } 3\text{ mm} + 3\text{ cm} = 8\text{ cm } 3\text{ mm}$

② $4\text{ cm } 6\text{ mm} + 5\text{ mm} = 5\text{ cm } 1\text{ mm}$

③ $8\text{ cm } 5\text{ mm} - 2\text{ mm} = 8\text{ cm } 3\text{ mm}$

④ $6\text{ cm } 2\text{ mm} - 7\text{ mm} = 5\text{ cm } 5\text{ mm}$

(3) せんどの長さを 書きましよう。



(11) cm (3) mm

(4) () にあてはまる たんいを 書きましよう。

① えんぴつの 長さ..... 14 (cm)

② こくばんの よこの長さ..... 4 (m)

③ くつの サイズ..... 22 (cm)

④ 教科書の あつさ..... 5 (mm)


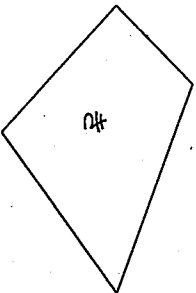

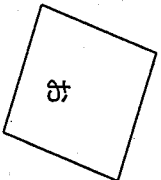
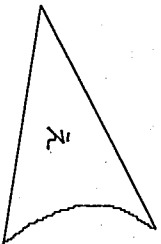
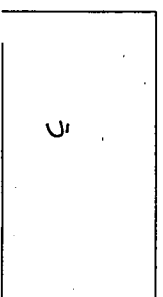
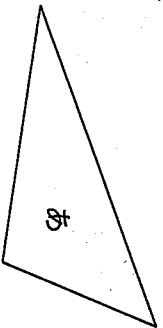
算数 たしかめテスト2-4

名前 ()

8 () に あてはまる 数 を 書きましよう。
 ① 2L = (20) dL ② 3L = (3000) mL

③ 1Lの牛乳を2dLのおむとのこりは (8) dLです。


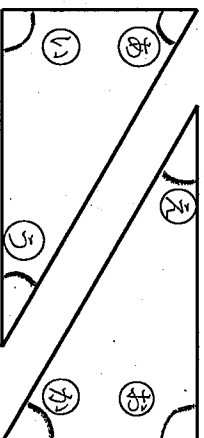
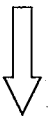
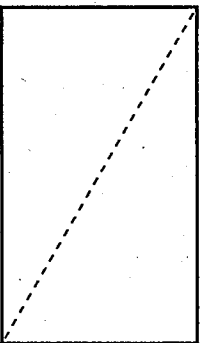
9 三角形や 四角形を 見つけましよう。
 あてはまるものは すべて えらびましよう。



三角形 あ, く

四角形 い, お, き

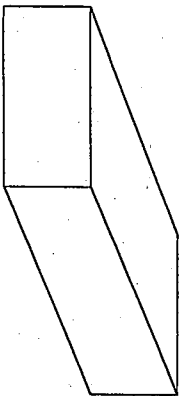
10 長方形を点せんで切ると 三角形が2つできました。三角形のかどの中から 直角をえらんで記ごうで かきましよう。



算数 たしかめテスト2-⑤

名前 ()

11 次の



にあてはまる数やことばを書きましょう。
左のはこの形の

辺の数は 12 に,


ちよう点の数は 8 つ,

面の数は 6 つ,

面の形は 長方形 です。

12 やさいの数をしらべます。

(1) ひょうやグラフに表しましょう。



やさい	たけのこ	トマト	なす	ピーマン	にんじん
数	1	6	3	2	5

やさいの数					
たけのこ	トマト	なす	ピーマン	にんじん	
<input type="checkbox"/>	<input type="checkbox"/>	<input type="checkbox"/>	<input type="checkbox"/>	<input type="checkbox"/>	
	<input type="checkbox"/>	<input type="checkbox"/>	<input type="checkbox"/>	<input type="checkbox"/>	
	<input type="checkbox"/>	<input type="checkbox"/>	<input type="checkbox"/>	<input type="checkbox"/>	
	<input type="checkbox"/>	<input type="checkbox"/>	<input type="checkbox"/>	<input type="checkbox"/>	
	<input type="checkbox"/>	<input type="checkbox"/>	<input type="checkbox"/>	<input type="checkbox"/>	

(2) いちばん多いやさいは何ですか。また、いくつですか。

トマト

6