

() 組 () 番 名前 ()

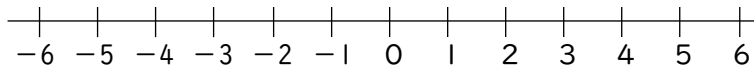
1 次の にあてはまる言葉を答えなさい。

(1) 「3より-4大きい数を求めなさい」とは, 3より4 数を求めることである。

(2) 「-2より-6小さい数を求めなさい」とは, -2より6 数を求めることである。

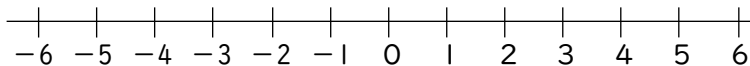
2 数直線を使って, 次の数を求めなさい。

(1) 3より-2大きい数を求めなさい。



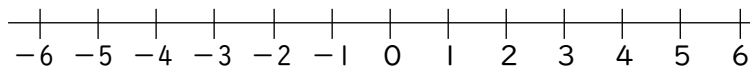
(1)

(2) 1より-5小さい数を求めなさい。



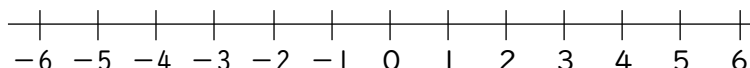
(2)

(3) -1より-4大きい数を求めなさい。



(3)

(4) -3より-6小さい数を求めなさい。



(4)