

( ) 組 ( ) 番 名前 ( )

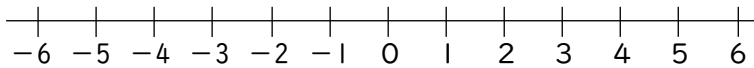
1 次の  にあてはまる適切な数や言葉を答えなさい。

(1)  $2 + 4$  は,  より  大きい数を求める計算である。

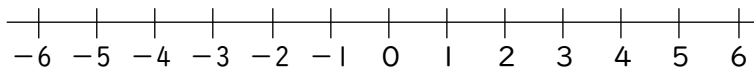
(2)  $3 + (-2)$  は,  より 2  数を求める計算である。

2 数直線を使って, 次の計算をしなさい。

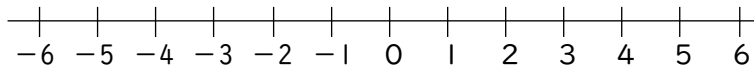
(1)  $-4 + 3$




(2)  $-1 + (-4)$




(3)  $3 + (-6)$




(4)  $-4 + (+8)$

