

( ) 組 ( ) 番 名前 ( )

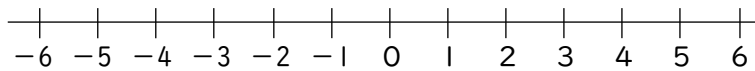
1 次の  にあてはまる適切な数や言葉を答えなさい。

(1)  $3 - (-2)$  は,  より 2  数を求める計算である。

(2)  $(-5) - (+3)$  は,  より  小さい数を求める計算である。

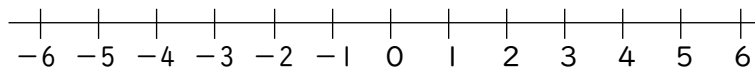
2 数直線を使って, 次の数を求めなさい。

(1)  $6 - 8$



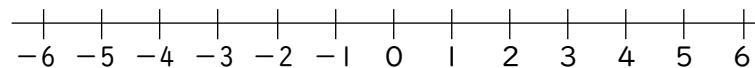
(1)

(2)  $-1 - 4$



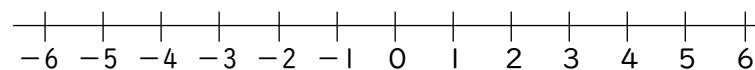
(2)

(3)  $3 - (-2)$



(3)

(4)  $(-3) - (-7)$



(4)