

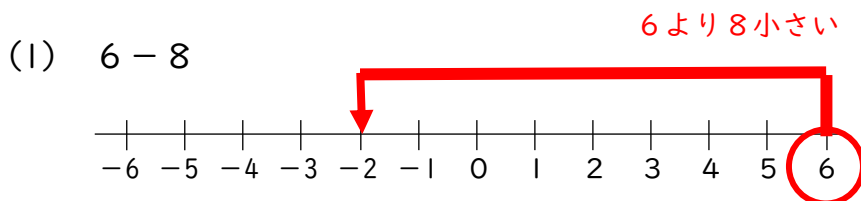
() 組 () 番 名前 ()

1 次の にあてはまる適切な数や言葉を答えなさい。

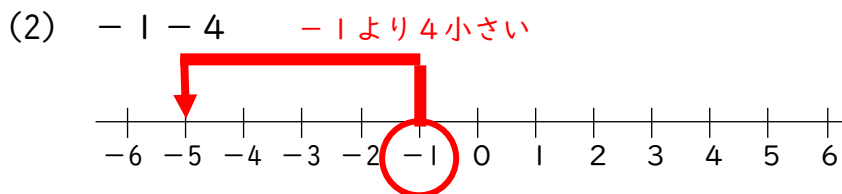
(1) $3 - (-2)$ は, より 2 数を求める計算である。

(2) $(-5) - (+3)$ は, より 小さい数を求める計算である。

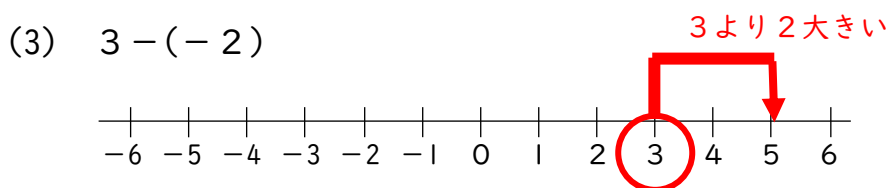
2 数直線を使って, 次の数を求めなさい。



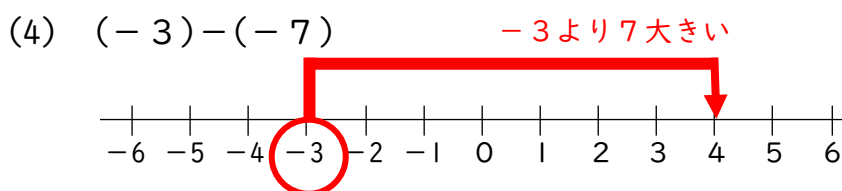
(1)



(2)



(3)



(4)