

() 組 () 番 名前 ()

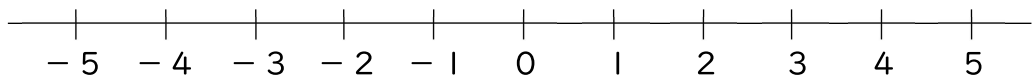
1 変数 x のとる値が次のとき, x の変域を不等号を使って表しなさい。

- (1) 5より大きい (2) 8以下

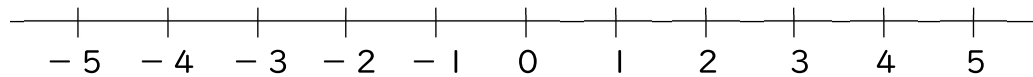
- (3) -3より大きく, 6未満 (4) -5以上, 7より小さい

2 変数 x のとる値が次のとき, x の変域を数直線上に表しなさい。

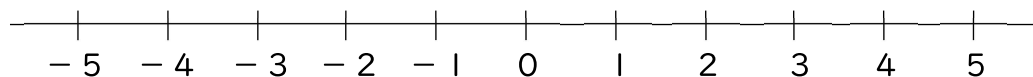
- (1) -2より大きい



- (2) 3以下



- (3) -3より大きく, 3より小さい



- (4) -2以上, 5以下

