

() 組 () 番 名前 ()

1 次の にあてはまる言葉を書き入れなさい。

(1) 長方形の面積の公式

$$\boxed{} \times \boxed{}$$

(2) 正方形の面積の公式

$$\boxed{} \times \boxed{}$$

(3) 平行四辺形の面積の公式

$$\boxed{} \times \boxed{}$$

(4) 台形の面積の公式

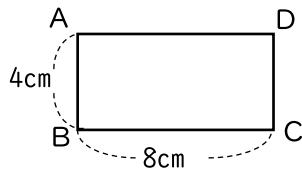
$$\left(\boxed{} + \boxed{} \right) \times \boxed{} \div \boxed{}$$

(5) 三角形の面積の公式

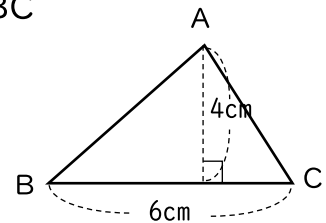
$$\boxed{} \times \boxed{} \div \boxed{}$$

2 次の図形の面積を求めなさい。

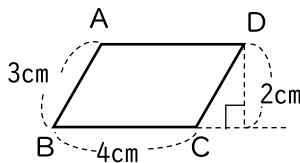
(1) 長方形 ABCD



(2) 三角形 ABC



(3) 平行四辺形 ABCD



(4) 台形 ABCD

