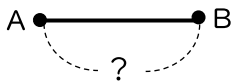



() 組 () 番 名前 ()

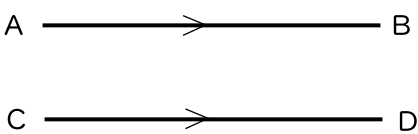
次の にあてはまる語句や記号を答えなさい。

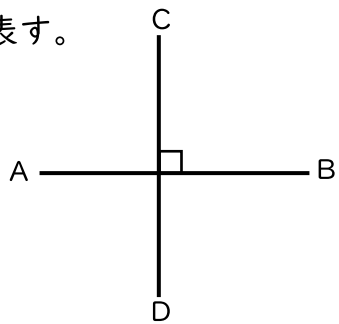
(1) 2点A, Bを通る直線を ABという。 

(2) 2点A, Bを両端とする線を ABという。 

(3) 2点A, Bを結ぶ線分の長さを、2点A, B間の という。


(4) 片方の点からもう一方の点の方向に限りなく
 のばした線を ABという。 

(5) 2直線ABとCDが交わらないとき、直線ABと直線CDは
 であるといい、AB CDと表す。 

(6) 2直線ABとCDが交わってできる角が直角のとき、直線ABと直線CDは
 であるといい、AB CDと表す。 

(7) 右の図の角を記号を使って表すと
 となる。 