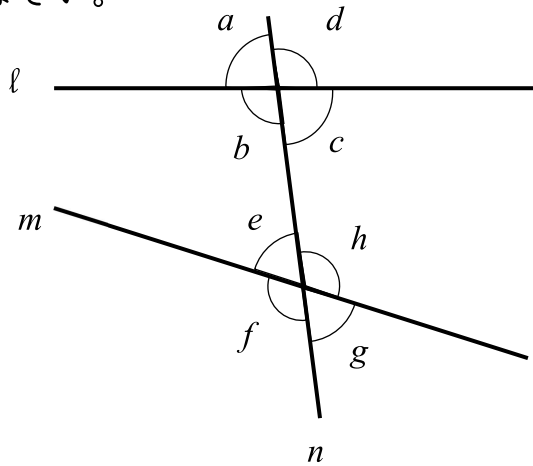


() 組 () 番 名前 ()

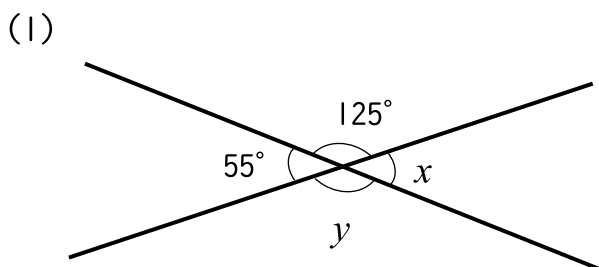
1 図のように、2直線 l , m に直線 n が交わっています。このとき、 にはまる角を求めなさい。



(1) $\angle a$ の対頂角は \angle c である。

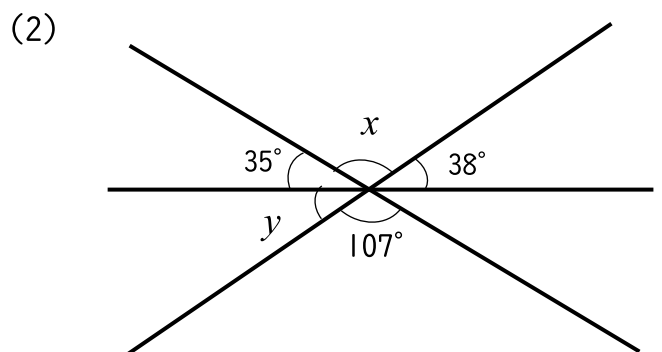
(2) $\angle f$ と大きさの等しい角は \angle h である。

2 次の図において、 $\angle x$, $\angle y$ の大きさを求めなさい。



$\angle x =$ 55°

$\angle y =$ 125°



$\angle x =$ 107°

$\angle y =$ 38°