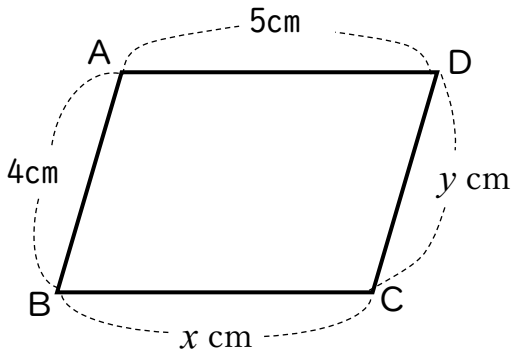


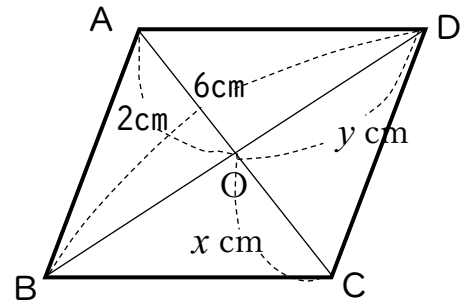
( ) 組 ( ) 番 名前 ( )

次の図で、四角形 ABCD は平行四辺形、O は対角線の交点です。x, y の値を求めなさい。

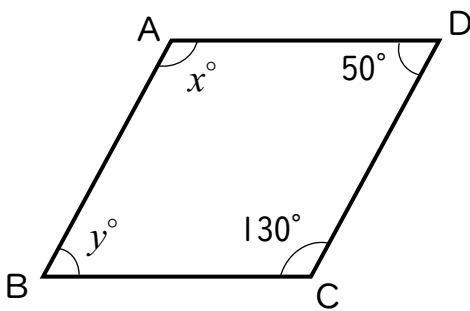
(1)



(2)



(3)



(4)

