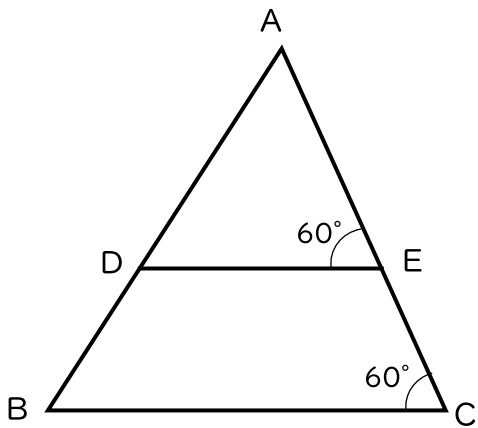


() 組 () 番 名前 ()

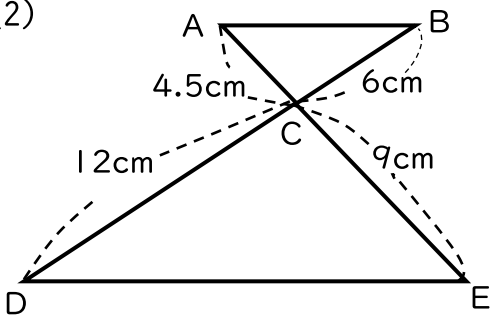
1 次の各図において、相似な三角形を見つけ、記号 \sim を用いて答えなさい。また、そのときに使った相似条件をいいなさい。ただし、(2)の点CはAEとBDとの交点です。

(1)



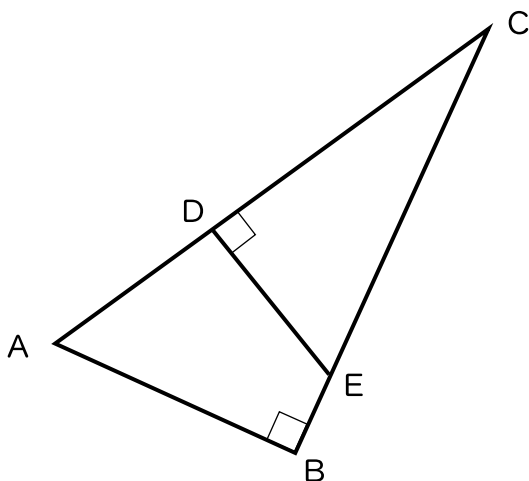
相似な三角形
使った相似条件

(2)



相似な三角形
使った相似条件

(3)



相似な三角形
使った相似条件