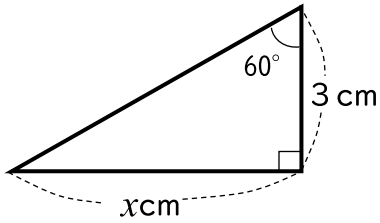


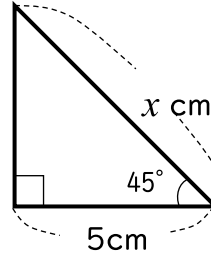
() 組 () 番 名前 ()

1 次の直角三角形において、 x の値を求めなさい。

(1)

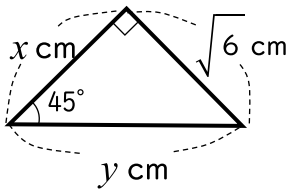


(2)

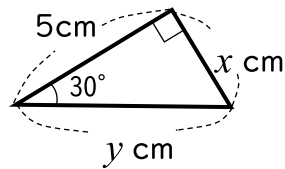


2 次の直角三角形において、 x, y の値を求めなさい。ただし、分母に根号のない形で答えなさい。

(1)

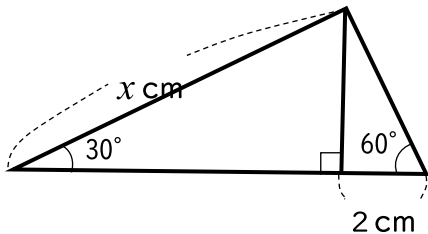


(2)



3 次の図において、 x の値を求めなさい。

(1)



(2)

